

STANDARD 2 Pisanie	
2) uczeń formułuje wypowiedzi ze świadomością celu (intencji)	a) pyta i odpowiada b) potwierdza i zaprzecza c) poleca i prosi d) przyrzeka i obiecuje e) zachęca i zniechęca f) zaprasza g) przeprasza h) współczuje i) żartuje j) wątpi k) odmawia

Treść standardu z informatora

W zależności od tego, po co i do kogo mówisz, wypowiadasz się w różny sposób. Świadomie dobierasz słowa, aby na przykład w odpowiedni sposób kogoś przeprosić, zachęcić do czegoś, coś komuś obiecać, poprosić o coś, odmówić komuś, coś potwierdzić, przyrzec, gdzieś kogoś zaprosić albo też wyrazić współczucie czy zwątpienie. Pamiętaj o tym, że w każdej tego typu wypowiedzi należy przestrzegać zasad dobrego wychowania.

STANDARD 2 Pisanie
3) uczeń buduje tekst poprawny kompozycyjnie (ok. 1 strony formatu A4), celowo stosując środki językowe i przestrzegając norm gramatycznych, ortograficznych i interpunkcyjnych,

Treść standardu z informatora

Treść twojej pisemnej wypowiedzi powinna być uporządkowana i złożona z poprawnie zbudowanych zdań. Nie zapominasz też o przecinkach, kropkach i innych znakach interpunkcyjnych, starasz się nie popełniać błędów ortograficznych.

STANDARD 2 Pisanie	
4) uczeń przedstawia w postaci graficznej dane zapisane w tabeli	a) przenosi informacje na oś liczbową, chronologiczną, układ współrzędnych b) wyraża dane w postaci diagramu słupkowego, prostego schematu, innego rysunku

Treść standardu z informatora

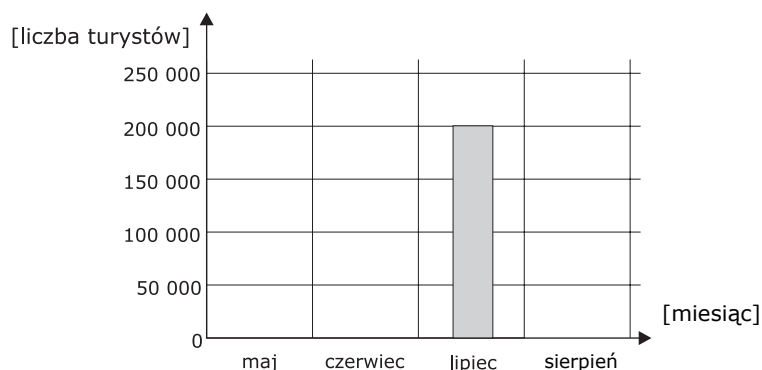
Tabele zawierają różne dane, które można przedstawić również w inny sposób. Potrafisz te dane przenosić na oś liczbową lub układ współrzędnych, a także na ich podstawie sporządzać diagram lub inny rysunek.

Zadanie 2.1 (KO)

W ciągu roku wielu turystów zwiedza zabytki.

Tabela

Miesiąc	Liczba turystów
maj	100 000
czerwiec	150 000
lipiec	200 000
sierpień	200 000



Wykorzystaj informacje z tabeli i narysuj brakujące słupki.

Zadanie sprawdza standard 2.4.

2 punkty przyznajemy, gdy uczeń poprawnie zaznacza 3 słupki diagramu.

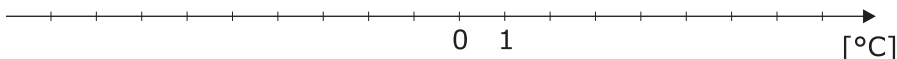
1 punkt przyznajemy za zaznaczenie tylko 2 słupków.

„Wycieczka”

Zadanie 2.2 (KO)

Wykorzystaj dane zamieszczone w tabeli i zaznacz na osi liczbowej wartości minimalnej i maksymalnej temperatury powietrza z 5 grudnia.

	temperatura [°C] o godz 7.00	temperatura [°C] o godz 7.00	temperatura [°C] maksymalna	temperatura [°C] minimalna	średnia dobowa temperatura [°C]
5 XII	-4	-1	2	-5	-2



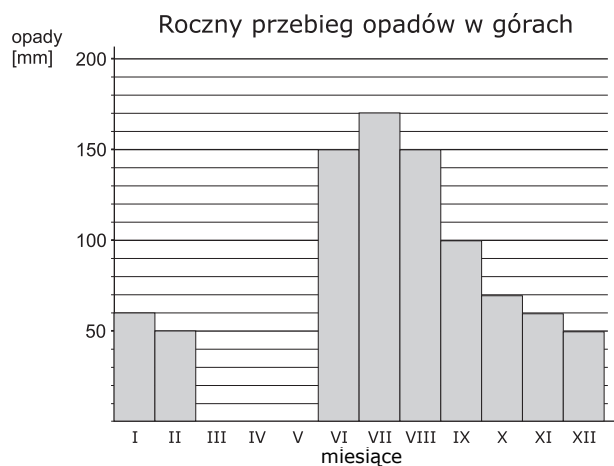
Zadanie sprawdza standard 2.4. Przyznajemy 1 punkt, gdy uczeń wyraźnie wyróżnia punkty o współrzędnych -5 i 2 .

„Cztery pory roku”

Zadanie 2.3 (KO)

Rodzice po powrocie z pracy przypomnieli Oli, że w lipcu może pojechać z ciocią w góry. Ola postanowiła sprawdzić, jaka może być tam wtedy pogoda. Odszukała wykres przedstawiający roczny przebieg średnich temperatur i wielkości opadów w górach.

Ola niechcący rozlała kakao na diagram ilustrujący roczny przebieg opadów.



Uzupełnij brakującą część diagramu, korzystając z danych zamieszczonych w tabeli:

miesiąc	I	II	III	IV	V	VI	VII
opady w mm	60	50	60	80	120	150	170

Zadanie sprawdza standard 2.4.

2 punkty przyznajemy, gdy uczeń poprawnie zaznacza 3 słupki diagramu.

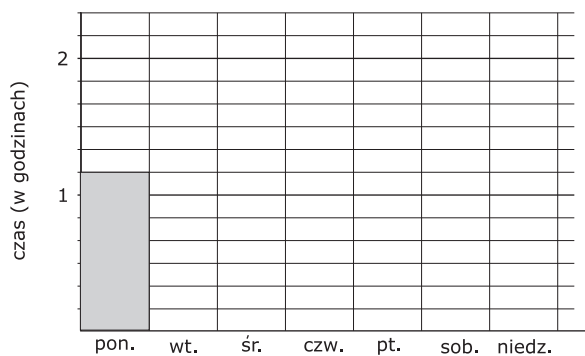
1 punkt przyznajemy za zaznaczenie tylko 2 słupków.

„Pierwszy dzień wakacji”

Zadanie 2.4 (KO)

Magda przez tydzień zapisywała w tabeli, ile czasu spędzała na oglądaniu programu telewizyjnego.

Dzień	poniedz.	wtorek	środa	czwartek	piątek	sobota	niedziela
Czas oglądania TV	1 godz. i 10 min	$\frac{1}{3}$ godz.	1 godz. i 20 min	$\frac{1}{2}$ godz.	15 min	50 min	2 godz.



Na podstawie tabeli uzupełnij diagram słupkowy pokazujący, ile godzin dziennie Magda oglądała telewizję.

Zadanie sprawdza standard 2.4.

2 punkty przyznajemy, gdy uczeń poprawnie zaznacza co najmniej 5 słupków diagramu.

1 punkt przyznajemy za zaznaczenie tylko 3 lub 4 słupków.

„Przed telewizorem”

STANDARD 2 Pisanie	
5) uczeń dba o układ graficzny, czytelność i estetykę zapisu	a) dostosowuje zapis do formy wypowiedzi b) wyróżnia części tekstu zgodnie z jego strukturą c) pisze czytelnie

Treść standardu z informatora

Starasz się pisać starannie i czytelnie. Umiesz tak rozplanować tekst, aby miał postać przejrzystą i właściwą dla danej formy wypowiedzi.

STANDARD 3 Rozumowanie	
1) uczeń posługuje się kategoriami czasu i przestrzeni w celu porządkowania wydarzeń	a) sytuuje je w przestrzeni b) umieszcza daty w przedziałach czasowych c) oblicza upływ czasu między wydarzeniami d) porządkuje wydarzenia w kolejności chronologicznej

Treść standardu z informatora

Potrafisz ustalić: gdzie i kiedy coś się działo: co zdarzyło się wcześniej, a co później, jak długo trwało, ile czasu upłynęło między pewnymi wydarzeniami. Potrafisz też zapisywać daty i umieszczać je we właściwym okresie (erze, epoce, wieku itp.).

Zadanie 3.1 (WW)

Uczniowie zorganizowali pokaz ubiorów z różnych okresów historycznych. Ewa była polskim szlachcicem z XVI wieku, Kamil – żołnierzem z czasów I wojny światowej, Hania – średniowiecznym rycerzem, a Jacek posłem Sejmu Czteroletniego. Dzieci pokazały te stroje, zaczynając od najdawniejszego. Kto wystąpił pierwszy?

A. Ewa B. Kamil C. Hania D. Jacek

Zadanie sprawdza standard 3.1.d. Prawidłowa odpowiedź C.

„W szkole”

Zadanie 3.2 (WW)

Rozpowszechniona w Europie przez Portugalczyków nazwa China (ćina) pochodzi od panującej w latach 221–207 p.n.e. dynastii Qin (Cin). Ile lat upłynęło od początku panowania tej dynastii do roku 2006?

A. 1785 lat B. 2213 lat C. 1799 lat D. 2227 lat

Zadanie sprawdza standard 3.1.c. Prawidłowa odpowiedź D.

„Marco Polo”

Zadanie 3.3 (WW)

Pociąg odjeżdża o godzinie 18:16 z Amsterdamu do miejscowości Nijmegen. Po sześciu kwadransach jest na miejscu. O której godzinie pociąg wjeżdża na stację Nijmegen?

- A. 18:46 B. 19:46 C. 19:16 D. 19:31

Zadanie sprawdza standard 3.1.c. Prawidłowa odpowiedź B.

„Miasta”

Zadanie 3.4 (WW)

Prawdopodobnie najstarsza znana dziś rasa psów istniała około 12 000 lat temu. Ile to stuleci?

- A. 12 B. 120 C. 1200 D. 1,2

Zadanie sprawdza standard 3.1.a. Prawidłowa odpowiedź B.

„Pies”

Zadanie 3.5 (WW)

Starożytny stadion w Atenach zbudowano w 33 roku p.n.e. Najnowsze stadiony w Grecji zbudowano na igrzyska olimpijskie w 2004 roku n.e.. Oba wydarzenia dzieli różnica

- A. 1786 lat C. 1674 lata
B. 2334 lata D. 4374 lata

Zadanie sprawdza standard 3.1.c. Prawidłowa odpowiedź B.

„Sport i zdrowie”

Zadanie 3.6 (WW)

Przepływająca przez Chiny rzeka Huang He kilkakrotnie zmieniła swój kierunek. Pomiędzy 602 rokiem p.n.e. a 1194 rokiem n.e. płynęła na północ od swojego obecnego koryta. Jak długo rzeka płynęła w kierunku północnym?

- A. 1796 lat B. 179 lat C. 592 lata D. 5 923 lata

Zadanie sprawdza standard 3.1.c. Prawidłowa odpowiedź A.

„Wielka rzeka”

Zadanie 3.7 (WW)

Tysiąc lat – ile to wieków?

- A. 1 B. 10 C. 100 D. 1000

Zadanie sprawdza standard 3.1.a. Prawidłowa odpowiedź B.

„W lesie”

Zadanie 3.8 (WW)

Największy najazd Tatarów na ziemie polskie miał miejsce w 1241 r. Był to wiek:

- A. XI B. XII C. XIII D. XIV

Zadanie przypisane do standardu 3.1.b. Prawidłowa odpowiedź C.

„Cztery pory roku”